



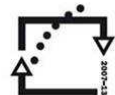
evropský
sociální
fond v ČR



EVROPSKÁ UNIE



MINISTERSTVO ŠKOLSTVÍ,
MLÁDEŽE A TĚLOVÝCHOVY



OP Vzdělávání
pro konkurenceschopnost



INVESTICE DO ROZVOJE VZDĚLÁVÁNÍ

Východní Evropa – opakování

Východní Evropa - kvíz

1. Hydroelektrárny zaujímají ve státech východní Evropy nejvyšší podíl na produkci elektrické energie

- a) v Bělorusku
- b) na Ukrajině
- c) v Lotyšsku
- d) v Litvě

2. Téměř 100% podíl na vyrobené elektrické energii mají tepelné elektrárny

- a) v Bělorusku
- b) na Ukrajině
- c) v Litvě
- d) v Moldavsku

3. Která z uvedených zemí východní Evropy zaznamenává vyšší % podíl průmyslu na tvorbě HDP nežli podíl služeb?

- a) Ukrajina
- b) Moldávie
- c) Lotyšsko
- d) Bělorusko

4. Ve kterém roce vstoupily všechny tři pobaltské republiky do EU?

- a) 2000
- b) 2004
- c) 2007



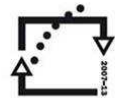
evropský
sociální
fond v ČR



EVROPSKÁ UNIE



MINISTERSTVO ŠKOLSTVÍ,
MLÁDEŽE A TĚLOVÝCHOVY



OP Vzdělávání
pro konkurenceschopnost



INVESTICE DO ROZVOJE VZDĚLÁVÁNÍ

d) nejsou členem EU

5. Jakou měnou se platí na Ukrajině?

- a) Hřivna
- b) Rubl
- c) Leu
- d) Euro

6. Který z uvedených států východní Evropy má co do počtu obyvatel o necelých 100 tisíc obyvatel více, nežli Praha?

- a) Moldavsko
- b) Lotyšsko
- c) Estonsko
- d) Litva

7. Jaká surovina se významně těží poblíž Kohtla Järve v Estonsku?

- a) Zemní plyn
- b) Hořlavé břidlice
- c) Jantar
- d) Železná ruda

8. Ve které z uvedených zemí se hlásí téměř 100% obyvatelstva k ortodoxní církvi?

- a) Litva
- b) Lotyšsko
- c) Ukrajina
- d) Moldavsko



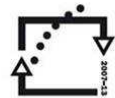
evropský
sociální
fond v ČR



EVROPSKÁ UNIE



MINISTERSTVO ŠKOLSTVÍ,
MLÁDEŽE A TĚLOVÝCHOVY



OP Vzdělávání
pro konkurenceschopnost



INVESTICE DO ROZVOJE VZDĚLÁVÁNÍ

9. Ve které z uvedených zemí východní Evropy žije méně než 50% obyvatelstva na venkově?

- a) Moldavsko
- b) Ukrajina
- c) Estonsko
- d) Litva

10. Organizace SNS (Společenství nezávislých států), jež zahrnuje 9 z 15 bývalých republik SSSR má své sídlo v Minsku. Kromě Běloruska je jeho stálým členem z uvedených států ještě

- a) Estonsko
- b) Ukrajina
- c) Moldavsko
- d) Litva

11. Surovina, těžená významně poblíž Kerče na východě poloostrova Krym, je

- a) železná ruda
- b) cín
- c) rašelina
- d) hořlavá břidlice

12. Ropovod Družba, který začíná v Samaře v Rusku, vede do střední Evropy kromě Ruska přes dva státy bývalého SSSR. Jde o

- a) Litvu a Ukrajinu
- b) Bělorusko a Ukrajinu
- c) Ukrajinu a Moldavsko
- d) Litvu a Bělorusko



evropský
sociální
fond v ČR



EVROPSKÁ UNIE



MINISTERSTVO ŠKOLSTVÍ,
MLÁDEŽE A TĚLOVÝCHOVY



OP Vzdělávání
pro konkurenceschopnost



INVESTICE DO ROZVOJE VZDĚLÁVÁNÍ

13. Z uvedených měst na Dněpru NELEŽÍ

- a) Kyjev
- b) Dnipropetrovsk
- c) Donec'k
- d) Zaporožje

14. Litva NESOUSEDÍ

- a) s Ruskem
- b) s Běloruskem
- c) s Ukrajinou
- d) s Lotyšskem

15. Besarábie je region, rozkládající se převážně

- a) v Bělorusku
- b) v Moldavsku
- c) na Ukrajině
- d) v Estonsku



evropský
sociální
fond v ČR



EVROPSKÁ UNIE



MINISTERSTVO ŠKOLSTVÍ,
MLÁDEŽE A TĚLOVÝCHOVY



OP Vzdělávání
pro konkurenceschopnost



INVESTICE DO ROZVOJE VZDĚLÁVÁNÍ


-----Klíč-----

1. (c)
2. (a)
3. (d)
4. (b)
5. (a)
6. (c)
7. (b)
8. (d)
9. (a)
10. (c)
11. (a)
12. (b)
13. (c)
14. (c)
15. (b)

INVESTICE DO ROZVOJE VZDĚLÁVÁNÍ

Východní Evropa

Kris Kros





evropský
sociální
fond v ČR



EVROPSKÁ UNIE



MINISTERSTVO ŠKOLSTVÍ,
MLÁDEŽE A TĚLOVÝCHOVY



OP Vzdělávání
pro konkurenceschopnost



INVESTICE DO ROZVOJE VZDĚLÁVÁNÍ

Vodorovně

- 1 Turistické letovisko na jižním pobřeží Krymu.
- 4 Významná řeka, protékající Litvou.
- 5 Přeprava na Dněpru, jižně od Zaporozje.
- 7 Ukrajinský přístav u Azovského moře (dřívější název Ždanov).
- 10 Znamý přístav Litvy u Baltského moře.
- 12 Rozlehlé jezero na hranicích Estonska a Ruska.
- 13 Významné město (ca. 750 tis. obyv.) na západní Ukrajině, ca. 60 km od hranic s Polskem.
- 14 Nejlidnatější přístav Ukrajiny u Černého moře.
- 15 Významný záliv Baltského moře u pobřeží Lotyšska.
- 17 Větší město v jihozápadním Bělorusku, v blízkosti hranic s Polskem.
- 18 Průliv, oddělující Černé moře od moře Azovského.

Svisle

- 2 Druhé největší město Moldavska.
- 3 Řeka pramenící v západní Ukrajině, protékající Moldavskem a ústící do Černého moře.
- 6 Nejvyšší hora Ukrajiny.
- 8 Záliv, u kterého se rozkládá hlavní město Estonska.
- 9 Významná rezervace na pomezí Polska a Běloruska se nazývá ... prales.
- 11 Druhé největší město Ukrajiny.
- 16 Znamý poloostrov na jihu Ukrajiny.

Klíč

1V – Jalta, 4V – Němen, 5V – Kachovská, 7V – Mariupol, 10V – Klaipeđa, 12V – Čudské, 13V – Lvov, 14V – Oděsa, 15V – Rižský, 17V – Brest, 18V – Kerčský

2S – Tiraspol, 3S – Dněstr, 6S – Hoverla, 8S – Finský, 9S – Bělověžský, 11S – Charkov, 16S – Krym



evropský
sociální
fond v ČR



EVROPSKÁ UNIE



MINISTERSTVO ŠKOLSTVÍ,
MLÁDEŽE A TĚLOVÝCHOVY



OP Vzdělávání
pro konkurenceschopnost



INVESTICE DO ROZVOJE VZDĚLÁVÁNÍ

Východní Evropa - spojovačka

Tallinn	Finský záliv
Mariupol	Dněpr
Kyjev	Azovské moře
Sevastopol	Němen
Kaunas	Dněstr
Riga	Západní Dvina
Liepaja	Baltské moře
Tiraspol	Černé moře

-----Klíč-----

Tallinn - Finský záliv

Mariupol - Azovské moře

Kyjev - Dněpr

Sevastopol - Černé moře

Kaunas - Němen

Riga - Západní Dvina

Liepaja - Baltské moře

Tiraspol - Dněstr